



BLAISE PASCAL
PT 2022-2023

TD 7 – Séquence 2 : Thermodynamique (I)

Équilibres chimiques

- Difficulté d'analyse et compréhension, initiative requise ;
- Difficulté technique et calculatoire ;
- Exercice important.



Flasher ce code pour accéder au corrigé

| Ceinture | | Proposition de parcours d'entraînement |
|----------|------------------|---|
| | Ceinture blanche | Questions de cours + exercices 1, 2 et 5 |
| | Ceinture jaune | Questions de cours + exercices 1, 3, 5 et 6 |
| | Ceinture rouge | Questions de cours (★) + exercices 3, 4, 6 et 7 |
| | Ceinture noire | Questions de cours (★) + exercices 3, 4, 7 et 8 |

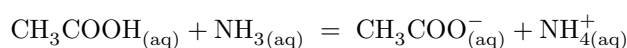
Questions et applications de cours

Seuls les étudiants du groupe PT* seront interrogés en colle sur les questions marquées d'une étoile, car elles sont plus techniques et/ou moins essentielles ... mais tous les étudiants sont bien sûr invités à les travailler !

7.1 - Établir la loi d'action des masses et définir K° à partir de $\Delta_r G^\circ$. On partira de l'expression de $\Delta_r G$ en termes des potentiels chimiques. On admet que le potentiel chimique du constituant physico-chimique i a pour expression

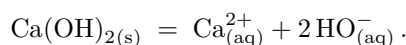
$$\mu_i(T, P, \text{composition}) = \mu_i^\circ(T) + RT \ln a_i.$$

7.2 - Considérons la réaction



Sa constante d'équilibre vaut $K^\circ = 10^{4,4}$. À l'état initial, les concentrations en CH_3COOH et NH_3 sont respectivement $C_1 = 1,5 \cdot 10^{-3} \text{ mol} \cdot \text{L}^{-1}$ et $C_2 = 1,0 \cdot 10^{-3} \text{ mol} \cdot \text{L}^{-1}$. Déterminer toutes les concentrations à l'équilibre, en faisant les approximations qui s'imposent.

7.3 - Considérons la réaction de dissolution de l'hydroxyde de calcium,



Sa constante d'équilibre vaut $K_s = 10^{-5,2}$. On se place dans $V_0 = 100 \text{ mL}$ de solution.

- a** - Déterminer l'expression littérale de l'avancement $\xi_{\text{éq}}$ à l'équilibre. Numériquement, $\xi_{\text{éq}} = 11 \text{ mmol}$.
- b** - On part d'une quantité de matière initiale de solide $n_0 = 50 \text{ mmol}$. Déterminer toutes les quantités de matière dans l'état final.
- c** - Reprendre la question pour $n'_0 = 5 \text{ mmol}$.

7.4 - La synthèse de l'ammoniac s'effectue selon l'équilibre $\text{N}_{2(\text{g})} + 3\text{H}_{2(\text{g})} \rightleftharpoons 2\text{NH}_{3(\text{g})}$. L'enthalpie de réaction vaut $\Delta_r H^\circ = -92,4 \text{ kJ} \cdot \text{mol}^{-1}$. Quel est l'effet d'une augmentation de température sur l'équilibre ? Répondre d'abord qualitativement (principe de modération), puis justifier le résultat avec la loi de van't Hoff.

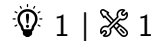
7.5 - La synthèse de l'ammoniac s'effectue selon l'équilibre $\text{N}_{2(\text{g})} + 3\text{H}_{2(\text{g})} \rightleftharpoons 2\text{NH}_{3(\text{g})}$. Quelques lignes de calcul permettent de montrer que le quotient de réaction peut s'écrire en fonction des quantités de matière et de la pression P

$$Q = \frac{n_{\text{NH}_3}^2}{n_{\text{N}_2} n_{\text{H}_2}^3} \left(\frac{p^\circ}{P} \right)^2 n_{\text{tot}}^2,$$

où n_{tot} est la quantité de matière totale de la phase gazeuse. Déterminer l'effet sur l'équilibre d'une des modifications suivantes du milieu réactionnel : extraction d'ammoniac ? augmentation de pression ? ajout d'un constituant gazeux inerte sans modification de pression ? Répondre d'abord qualitativement (principe de modération), puis justifier le résultat par le calcul.

Attention, le principe de modération ne dit rien pour l'ajout de constituants inertes.

Exercice 1 : Production industrielle de chaux vive



▷ Rupture d'équilibre.

La chaux vive, solide blanc de formule CaO , est un des produits de chimie industrielle les plus communs. Utilisée depuis l'Antiquité, notamment dans le domaine de la construction, elle est aujourd'hui utilisée comme intermédiaire en métallurgie. Elle est obtenue industriellement par dissociation thermique du calcaire CaCO_3 dans un four à $T = 1100\text{ K}$. On modélise cette transformation par la réaction



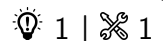
La constante d'équilibre de cette réaction vaut $K = 0,358$ à 1100 K .

1 - Dans un récipient de volume $V = 10\text{ L}$ préalablement vide, on introduit 10 mmol de calcaire à température constante $T = 1100\text{ K}$. Quels sont les états finaux possibles ?

2 - Supposons que l'état final est un état d'équilibre. Déterminer la quantité de matière de calcaire qui devrait avoir réagi. Conclure.

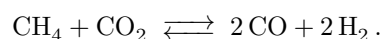
3 - Quelle quantité maximale de calcaire peut-on transformer en chaux dans ces conditions ?

Exercice 2 : Valorisation du biométhane



▷ Déplacement d'équilibre.

L'une des pistes envisagées pour valoriser le biogaz produit la méthanisation consiste à le convertir en dihydrogène par reformage à sec selon la réaction en phase gazeuse



Ce procédé fait à l'heure actuelle l'objet de recherches pour résoudre les difficultés qu'il pose sur le plan de la cinétique et du rendement énergétique, mais il s'avère d'autant plus prometteur qu'il permet de consommer du CO_2 .

1 - Calculer l'enthalpie standard de réaction. Commenter. Prévoir le signe de l'entropie standard de réaction.

2 - Prévoir qualitativement l'effet d'une augmentation isobare de température sur l'équilibre. Le retrouver par le calcul. Commenter.


3 - Prévoir qualitativement l'effet d'une augmentation isotherme de pression sur l'équilibre. Le retrouver par le calcul. Commenter.

Données : enthalpies standard de formation à 298 K .

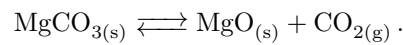
$$\Delta_f H^\circ(\text{CH}_4) = -73,1\text{ kJ} \cdot \text{mol}^{-1} \quad \Delta_f H^\circ(\text{CO}_2) = -393,5\text{ kJ} \cdot \text{mol}^{-1} \quad \Delta_f H^\circ(\text{CO}) = -110,5\text{ kJ} \cdot \text{mol}^{-1}.$$

Exercice 3 : Carbonate de magnésium

oral banque PT | 💡 2 | ✂️ 1 | Ⓜ️

- 
- ▷ Composition d'un système à l'équilibre ;
 - ▷ Déplacement d'équilibre ;
 - ▷ Rupture d'équilibre.

On s'intéresse à l'équilibre




À 820 °C, sa constante d'équilibre vaut $K = 0,4$.

- 1 - Dans un récipient initialement vide de volume $V = 200 \text{ L}$ à 820 °C on place 5 mol de $\text{MgCO}_{3(s)}$. Déterminer la composition à l'équilibre ainsi que la pression.
- 2 - En augmentant légèrement la température, on constate une légère diminution de la pression. Déterminer le signe de l'enthalpie standard de réaction.
- 3 - On place cette fois 0,5 mol de MgCO_3 dans le même récipient. Déterminer la composition finale ainsi que la pression.

Exercice 4 : Dissociation du carbonate de baryum

adapté PT chimie 2022 | 💡 2 | ✂️ 1 | Ⓜ️

- 
- ▷ Grandeurs standard de réaction ;
 - ▷ Composition à l'équilibre ;
 - ▷ Rupture d'équilibre.

Dans certaines conditions, le carbonate de baryum solide $\text{BaCO}_{3(s)}$ peut se dissocier en oxyde de baryum $\text{BaO}_{(s)}$ et en dioxyde de carbone $\text{CO}_{2(g)}$.

- 1 - Écrire l'équation de la réaction.
- 2 - Calculer son enthalpie standard de réaction. Conclure.
- 3 - Calculer l'entropie standard de réaction. Justifier son signe.
- 4 - Exprimer la constante d'équilibre de cette réaction à 298 K en fonction des valeurs thermodynamiques obtenues précédemment. On obtient numériquement $K^\circ = 5 \cdot 10^{-39}$.
- 5 - Calculer la valeur de la pression partielle du CO_2 à l'équilibre, $P_{\text{CO}_2, \text{éq}}$ à 298 K.
- 6 - Sachant que la pression partielle du CO_2 dans l'air vaut $3 \cdot 10^{-4} \text{ bar}$, est-il possible de conserver du carbonate de baryum à l'air libre à 298 K ?

On enferme maintenant une mole de $\text{BaCO}_{3(s)}$ dans un récipient initialement vide de volume V variable. La température demeure constante et égale à 298 K.

- 7 - Quel est l'effet d'une augmentation de volume à température et composition constantes sur l'équilibre chimique précédemment étudié ?
- 8 - En déduire l'évolution de la quantité de matière de CO_2 dans l'enceinte en fonction de la valeur de V , évoluant de 0 à $+\infty$. Si l'évolution n'est pas monotone, on précisera la valeur de la quantité de matière de CO_2 au point de changement de pente.

Données : enthalpies standard de formation et entropies molaires standard à 298 K

| | $\Delta_f H^\circ$ (kJ · mol ⁻¹) | S° (J · K ⁻¹ · mol ⁻¹) |
|----------------------|--|--|
| $\text{BaCO}_{3(s)}$ | -1216 | 112 |
| $\text{BaO}_{(s)}$ | -553 | 70 |
| $\text{CO}_{2(g)}$ | -393 | 213 |

Exercice 5 : Percarbonate de sodiumécrit PT 2018 |  1 |  1 | 

- ▷ Grandeurs standard de réaction ;
- ▷ Optimisation d'un équilibre.

Le percarbonate de sodium de formule $\text{Na}_2\text{CO}_3 \cdot 1,5 \text{H}_2\text{O}_2$ est un agent blanchissant oxygéné. Il se décompose dans l'eau pour donner de l'eau oxygénée et du carbonate de sodium. Le carbonate de sodium augmente le pH, ce qui améliore l'efficacité des agents détergents. L'eau oxygénée est un agent blanchissant efficace grâce à ses propriétés oxydantes. Contrairement à l'eau de Javel, le percarbonate de sodium n'est pas nocif pour l'environnement et il possède également des propriétés désinfectantes et désodorisantes.

L'eau oxygénée utilisée dans le percarbonate de sodium intervient dans deux couples redox : $\text{O}_{2(\text{g})}/\text{H}_2\text{O}_{2(\text{aq})}$ et $\text{H}_2\text{O}_{2(\text{aq})}/\text{H}_2\text{O}_{(\text{l})}$. Dans certaines conditions, le peroxyde d'hydrogène est capable de réagir sur lui-même (réaction de dismutation) selon l'équation bilan :



Nous allons dans la suite de cette partie étudier cette réaction du point de vue thermodynamique.

Données : $R = 8,31 \text{ J} \cdot \text{mol}^{-1} \cdot \text{K}^{-1}$; $\ln(2) = 0,7$

| espèces | $\text{H}_2\text{O}_{2(\text{aq})}$ | $\text{O}_{2(\text{g})}$ | $\text{H}_2\text{O}_{(\text{l})}$ |
|--|-------------------------------------|--------------------------|-----------------------------------|
| $\Delta_f H^\circ$ ($\text{kJ} \cdot \text{mol}^{-1}$) | -190 | ? | -290 |
| S_m° ($\text{J} \cdot \text{K}^{-1} \cdot \text{mol}^{-1}$) | 140 | 200 | 70 |

- 1 - Calculer l'entropie standard de réaction de la réaction (1). Justifier son signe.
- 2 - Que vaut l'enthalpie standard de formation du dioxygène gazeux ? Justifier.
- 3 - Calculer l'enthalpie standard de réaction de la réaction (1). Que peut-on en déduire ?
- 4 - Exprimer la constante d'équilibre de cette réaction à 300 K en fonction des constantes thermodynamiques calculées dans les questions précédentes. On obtient $K^\circ = 1,0 \cdot 10^{19}$, en déduire si l'eau oxygénée est stable du point de vue thermodynamique.
- 5 - Quelle est l'influence d'une augmentation de température isobare sur l'équilibre (1) ? Une justification rigoureuse est attendue.
- 6 - Quelle est l'influence d'une augmentation de pression isotherme sur l'équilibre (1) ? Une justification rigoureuse est attendue.
- 7 - Donner les conditions expérimentales permettant de minimiser la décomposition de l'eau oxygénée.

Exercice 6 : Formation de SiC par CVDd'après écrit Centrale TSI 2016 |  2 |  2

- ▷ Déplacement d'équilibre ;
- ▷ Composition d'un système à l'équilibre ;
- ▷ Énergie libérée par une réaction.

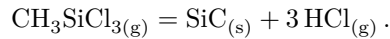
Document 1 :

La face optique des miroirs des instruments spatiaux peut être revêtue de SiC par dépôt chimique en phase vapeur (ou CVD pour l'anglais « chemical vapor deposition ») afin de masquer toute porosité résiduelle et obtenir ainsi une surface polissable parfaite.

Le dépôt chimique en phase vapeur (CVD) est un procédé utilisé pour produire des matériaux solides de grande pureté et sous forme de couches minces. Dans ce procédé, un solide inerte servant de support est exposé à un ou plusieurs composés chimiques en phase gazeuse qui se décomposent à sa surface pour former le matériau désiré. Généralement, plusieurs réactions se produisent conjointement, les produits des réactions indésirables étant évacués par un flux gazeux traversant en continu la chambre réactionnelle.

De nombreux composés chimiques sont utilisés pour produire des films minces de SiC. Parmi ceux-ci, le méthyl-trichlorosilane MTS CH_3SiCl_3 est très souvent choisi. La réaction se déroule sur un solide en graphite, à température élevée et sous pression réduite. Elle se déroule dans un courant de dihydrogène et, d'un point de vue microscopique, en deux étapes : une décomposition du MTS en présence de dihydrogène pour former des produits intermédiaires gazeux

suivie d'une réaction entre ceux-ci pour former le carbure de silicium solide. La transformation peut être modélisée par l'équation bilan globale



On donne ci-dessous les enthalpies standard de formation à $T_0 = 298 \text{ K}$ des trois espèces chimiques impliquées dans la réaction ; on se placera dans le cadre de l'approximation d'Ellingham, c'est-à-dire que l'on considérera que ces enthalpies standard ne dépendent pas de la température. Tous les gaz sont supposés parfaits et on prendra $R = 8,3 \text{ J} \cdot \text{mol}^{-1} \cdot \text{K}^{-1}$ comme valeur de la constante des gaz parfaits.




| Composé | $\text{CH}_3\text{SiCl}_3(\text{g})$ | $\text{SiC}(\text{s})$ | $\text{HCl}(\text{g})$ |
|--|--------------------------------------|------------------------|------------------------|
| $\Delta_f H^\circ$ ($\text{kJ} \cdot \text{mol}^{-1}$) | -529 | -73,2 | -92,3 |


- 1 - Calculer l'enthalpie standard de la réaction. Commenter le signe de cette grandeur.
- 2 - Rappeler la relation de Van't Hoff. En déduire le sens de variation de la constante d'équilibre thermodynamique de la réaction avec la température T .
- 3 - La constante d'équilibre de la réaction à T_0 vaut $K^\circ(T_0) = 2,9 \cdot 10^{-20}$. Déterminer la valeur de la température T_1 pour laquelle $K^\circ(T_1) = 10$.

On se place désormais à cette température. On considère une enceinte vide, thermostatée à la température T_1 , dans laquelle on introduit une quantité $n = 1,0 \text{ mol}$ de MTS. On définit le taux de décomposition α du MTS est défini par le quotient de la quantité de MTS ayant réagi sur la quantité initiale de MTS introduite. La pression dans l'enceinte est fixée à $p = P^\circ = 1 \text{ bar}$.

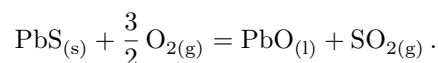
- 4 - Exprimer le quotient réactionnel Q_r de la réaction en fonction des pressions partielles des espèces gazeuses présentes dans le milieu réactionnel et de la pression standard P° .
- 5 - Exprimer les quantités de matière des différentes espèces présentes en fonction de n et de α .
- 6 - En déduire une équation dont la résolution donne la valeur $\alpha_{\text{éq}}$ à l'équilibre. La résolution, non demandée, donne $\alpha_{\text{éq}} = 0,80$.
- 7 - Calculer le transfert thermique Q échangé au cours de la réaction.
- 8 - Quel est l'effet d'une variation isotherme de pression sur la valeur de $\alpha_{\text{éq}}$?

Exercice 7 : Grillage du sulfure de plomb

écrit CCP MP 2017 |  2 |  2 | 

-  \triangleright Grandeurs standard de réaction ;
 \triangleright Déplacement d'équilibre ;
 \triangleright Température de flamme.

Le plomb métallique peut être obtenu par voie sèche à partir du minerai de sulfure de plomb, appelé galène. La préparation du métal est réalisée actuellement en deux étapes : le grillage du sulfure de plomb suivi de la réduction du monoxyde de plomb. On s'intéresse dans cet exercice à l'étape de grillage où le sulfure de plomb est chauffé en présence de dioxygène. Une réaction d'oxydation se produit :



Dans tout l'exercice, on se place dans le domaine $1161 \text{ K} < T < 1387 \text{ K}$.

- 1 - Justifier pourquoi l'enthalpie standard $\Delta_r H^\circ$ et l'entropie standard $\Delta_r S^\circ$ de la réaction sont différentes pour T supérieure ou inférieure à 1161 K . Les calculer.
- 2 - La réaction est-elle endothermique ou exothermique ? Commenter le signe de l'entropie standard de réaction.
- 3 - Justifier comment évolue l'équilibre si on augmente la température, toutes choses égales par ailleurs.
- 4 - Donner l'expression de l'enthalpie libre standard $\Delta_r G^\circ$ de la réaction en fonction de la température T .
- 5 - Calculer la constante d'équilibre K° de la réaction à 1273 K . Conclure.
- 6 - Exprimer le quotient réactionnel Q en fonction de la pression P et des quantités de matière n en O_2 , n' en SO_2 et N pour la totalité des gaz.
- 7 - Comment évolue l'équilibre si on augmente la pression, toutes choses égales par ailleurs ?

8 - On utilise de l'air pour effectuer la réaction. La présence de diazote favorise-t-elle la réaction à température et pression fixées ? Pourquoi pensez-vous que les industriels utilisent de l'air plutôt que du dioxygène pur ?



Les réactifs, c'est-à-dire le minerai et l'air, sont portés à 1273 K pour réagir entre eux. Le caractère rapide et total de la réaction permet de formuler une hypothèse d'adiabaticité.

9 - En supposant que l'on part des proportions stœchiométriques, à quelle température seraient portés les produits pris initialement à 1273 K ? Pourrait-on réaliser le grillage ?

10 - On ne peut pas baisser la température de réaction en dessous de 950 °C sinon le phosphate de plomb, qui se forme simultanément, ne serait pas décomposé. On ne peut donc travailler qu'entre 950 °C et 1114 °C. Pourquoi se positionne-t-on plutôt du côté bas du domaine ?

| Données | | | | | | | |
|---|---------|--------------------|---------|---------------------|--------------------|---------------------|---------------------|
| Constante des gaz parfaits : $R = 8,31 \text{ J}\cdot\text{mol}^{-1}\text{K}^{-1}$ | | | | | | | |
| Masse volumique du plomb solide : $\rho = 11\,350 \text{ kg}\cdot\text{m}^{-3}$ | | | | | | | |
| Températures de fusion sous une pression de 1 bar : | | | | | | | |
| $T_f(\text{Pb}) = 596 \text{ K}$ | | | | | | | |
| $T_f(\text{PbO}) = 1\,161 \text{ K}$ | | | | | | | |
| $T_f(\text{PbS}) = 1\,387 \text{ K}$ | | | | | | | |
| Données thermodynamiques à 298 K : | | | | | | | |
| Composé | Pb(s) | PbO(s) | PbS(s) | O ₂ (g) | C(s) | CO ₂ (g) | SO ₂ (g) |
| Enthalpie standard de formation (kJ·mol ⁻¹) | 0 | -219,0 | -120,4 | 0 | 0 | -393,5 | -296,8 |
| Entropie molaire standard (J·mol ⁻¹ ·K ⁻¹) | 64,8 | 66,5 | 91,2 | 205,2 | 5,7 | 213,8 | 248,2 |
| Enthalpie standard de fusion du plomb : à 596 K, $\Delta_{\text{fus}} H^0 = 4,8 \text{ kJ}\cdot\text{mol}^{-1}$ | | | | | | | |
| Enthalpie standard de fusion du monoxyde de plomb PbO : à 1 161 K, $\Delta_{\text{fus}} H^0 = 11,7 \text{ kJ}\cdot\text{mol}^{-1}$ | | | | | | | |
| Données thermodynamiques à 1 273 K : capacités thermiques molaires isobares en J·K ⁻¹ ·mol ⁻¹ | | | | | | | |
| Composé | PbS (s) | O ₂ (g) | PbO (l) | SO ₂ (g) | N ₂ (g) | | |
| C_p^0 | 49,5 | 29,4 | 45,8 | 39,9 | 29,1 | | |
| On supposera que, dans le domaine de température étudié, $\Delta_r H^0$ et $\Delta_r S^0$ sont indépendants de la température pour toutes les réactions chimiques envisagées. | | | | | | | |
| Les phases solides sont non miscibles. | | | | | | | |

Exercice 8 : Obtention de l'aluminium à partir de l'alumine

écrit PT 2015 |  3 |  1



▷ Grandeurs standard de réaction.

La poudre d'aluminium brûle très facilement. La réaction est exothermique.

Données :

▷ Enthalpies de formation à 298 K, exprimées en kJ·mol⁻¹ :

| | | | | | | |
|-------------------|-------------------|-----------------------------------|------------------|-------------------|-------------------|--------------------|
| Al _(s) | Al _(l) | Al ₂ O _{3(s)} | C _(s) | O _{2(g)} | CO _(g) | CO _{2(g)} |
| 0 | 10,6 | -1674 | 0 | 0 | -110 | -393 |

▷ Température de fusion de l'aluminium sous 1 bar : 930 K ;

▷ Enthalpie de fusion de l'aluminium à 930 K : $\Delta_{\text{fus}} H^0 = 10,9 \text{ kJ}\cdot\text{mol}^{-1}$.

1 - Écrire une équation pour la réaction (1) entre le dioxygène et l'aluminium. Le coefficient stœchiométrique du dioxygène sera choisi égal à 1. Suivant la température, l'aluminium se trouve à l'état solide ou à l'état liquide.

2 - Rappeler l'expression de l'enthalpie libre standard $\Delta_r G^0$ en fonction de la température T , de l'enthalpie standard $\Delta_r H^0$ de réaction et de l'entropie standard de réaction $\Delta_r S^0$.

On considère que, sur un intervalle de température restreint, en l'absence de changement d'état de l'une des espèces, on peut négliger les variations de l'enthalpie standard de réaction $\Delta_r H^0$ et de l'entropie standard de réaction $\Delta_r S^0$ avec la température.

3 - Indiquer, dans le cadre de cette approximation, quel type de courbe représente la variation de la fonction $\Delta_r G^\circ$ avec la température en l'absence de changement d'état.

Notons $\Delta_r G_1^\circ$ l'enthalpie libre standard de la réaction (1) sur l'intervalle [250 K; 2500 K].

4 - Compte tenu des états physiques des réactifs et produits apparaissant dans l'équation de la réaction (1), prévoir le signe de $\Delta_r S_1^\circ$. Attribuer alors la courbe (a) ou (b) de la figure 1 à $\Delta_r G_1^\circ(T)$ en justifiant votre choix.

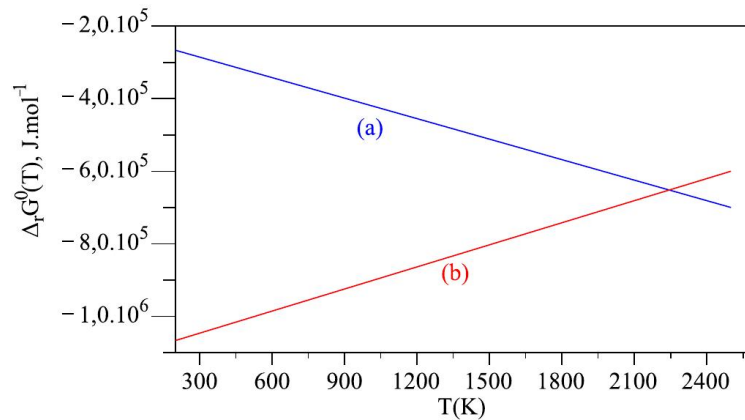


Figure 1 – Enthalpie libre standard de réaction en fonction de la température.

5 - Déterminer si la courbe obtenue est une simple droite. Argumenter la réponse.

L'évolution de l'enthalpie libre standard de réaction $\Delta_r G_2^\circ(T)$ en fonction de la température pour une réaction (2) entre le carbone et l'oxygène a également été représentée sur la figure 1. La représentation a été rapportée à une mole de dioxygène.

6 - Proposer deux équations pour les réactions correspondant aux réactions du dioxygène sur le carbone, formant dans le premier cas du dioxyde de carbone gazeux, dans le second cas du monoxyde de carbone gazeux. Indiquer le degré d'oxydation de l'élément carbone dans chacun des deux produits envisagés. Compte tenu de l'allure de la courbe, justifier que la courbe (a) ou (b) est attribuée à la réaction (2) d'obtention de l'oxyde présentant le carbone avec le degré d'oxydation le plus faible.

7 - Écrire alors par combinaison linéaire des réactions (1) et (2) une équation pour la réaction du carbone sur l'oxyde d'aluminium. Indiquer la condition thermodynamique (à propos de l'enthalpie libre standard de réaction) qui doit être vérifiée pour que la constante d'équilibre de la réaction soit supérieure à 1.

8 - Prévoir à partir de quelle température la réduction de l'oxyde d'aluminium est théoriquement possible. Justifier votre raisonnement à partir de la figure 1.

9 - L'électrolyse de l'alumine a lieu à 1230 K. D'après vous, quelle méthode (électrolyse ou réduction par le carbone) est industriellement utilisée pour obtenir de l'aluminium ?

| *Le sujet se poursuit justement par l'étude de l'électrolyse, qui fait appel à l'oxydoréduction.*