



BLAISE PASCAL
PT 2024-2025

TD 28 – Électrochimie

Correction

Corrosion humide

Exercice 1 : Interprétation d'une expérience

💡 1 | ✂ 0 | ⚠



▷ *Interprétation de courbes intensité-potentiel.*

- 1 Le plomb est un réducteur, qui réagit avec un oxydant. Le seul oxydant présent dans le système est l'ion H^+ (ou l'eau), qui se réduit en dihydrogène, dont on observe la formation sur les électrodes.
- 2 D'après la courbe donnée, la réduction de l'eau en dihydrogène est plus rapide sur le platine que sur le plomb, c'est donc sur le platine qu'elle est observée.
- 3 Le courant de corrosion (valeur du courant au potentiel mixte) est très supérieur lorsque la réduction a lieu sur platine plutôt que sur plomb.

Exercice 2 : Interprétation d'une expérience

💡 2 | ✂ 0

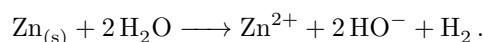


▷ *Allure qualitative des courbes intensité-potentiel.*

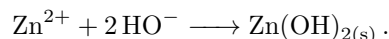
- **Aspect thermodynamique** : la règle du gamma (ou les diagrammes de prédominance) montre que c'est le zinc plutôt que le fer qui est oxydé par l'eau.

De façon générale, les espèces qui réagissent préférentiellement sont celles qui forment « le plus grand gamma ». On peut le retrouver de manière qualitative en notant que si l'eau oxyde Fe plutôt que Zn, alors il y a formation d'ions Fe^{2+} ... mais ces ions réagissent de manière quantitative avec Zn pour former Zn^{2+} , si bien que tout se passe comme si l'eau avait directement attaqué Zn.

L'équation bilan de la réaction qui a lieu est donc (cf. cours pour la retrouver)



Le précipité blanc observé est l'hydroxyde de zinc, formé par



- **Aspect cinétique** : si le dégagement gazeux a lieu sur l'électrode de fer, c'est que la réduction de l'eau y est plus rapide que sur l'électrode de zinc, donc que la surtension y est plus faible.

Exercice 3 : Courbe intensité-potentiel et passivation

💡 2 | ✂ 0



▷ *Allure qualitative des courbes intensité-potentiel.*

- 1 (i) $2H^+ + 2e^- \longrightarrow H_2$
(iii) $Pb \longrightarrow Pb^{2+} + 2e^-$

Les potentiels standard garantissent que ce sont les ions Pb^{2+} qui sont formés et pas l'oxyde de plomb PbO_2 .

- (iv) $Pb + 2H_2O \longrightarrow PbO_2 + 4H^+ + 4e^-$

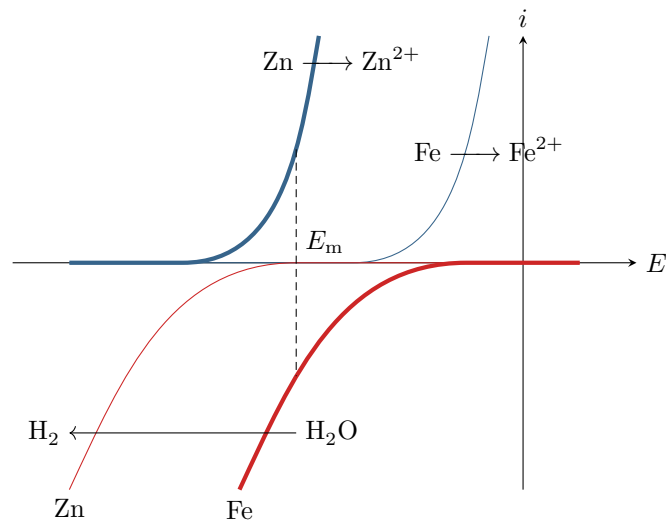
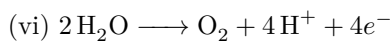


Figure 1 – Courbes intensité potentiel permettant l’interprétation de l’expérience. Les courbes associées aux processus électrochimiques ayant réellement lieu sont représentées en trait épais, celles associées aux processus qui n’ont pas lieu sont en traits fins.

C’est directement l’électrode qui réagit, et pas d’éventuels ions Pb²⁺ qui auraient été formés dans la solution : ceux-ci seraient beaucoup moins concentrés.



2 (ii) Le plomb n’est pas attaqué (domaine d’immunité + forte surtension anodique).

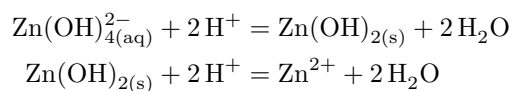
(v) L’oxyde de plomb est un solide qui se forme en surface de la lame de plomb et l’isole progressivement (passivation), d’où une chute de l’intensité.

3 Contrairement à la plupart des métaux, la surtension anodique de l’électrode de plomb est telle que celle-ci est stable en milieu très acide.

Exercice 4 : Corrosion du zinc 💡 1 | ⚙️ 2

- Diagramme de corrosion ;
- Blocage cinétique.

1 Le degré d’oxydation de Zn dans Zn_(s) est 0. Le degré d’oxydation de Zn dans chacune des autres espèces étudiées est +II. Les équations de couple acide-base successifs sont les suivantes. Pour les trouver, on raisonne à partir du fait qu’une espèce est d’autant plus basique qu’elle est chargée négativement. Ainsi,



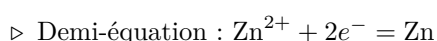
On en déduit alors le diagramme de situation. Comme on y retrouve directement l’allure du diagramme donné par l’énoncé, on peut conclure.

NO = II	(B) Zn ²⁺ (C) Zn(OH) _{2(s)} (D) Zn(OH) ₄ ²⁻
NO = 0	(A) Zn _(s)

La zone A correspond au domaine d’immunité, les zones B et D au domaine de corrosion et la zone C au domaine de passivation.

Dans un cas aussi simple, on peut conclure directement, sans passer par le diagramme de situation !

2 • Valeur de E₁ : frontière A/B.



▷ Loi de Nernst :

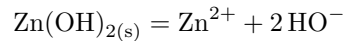
$$E_1 = E^\circ + \frac{0,06}{2} \log[\text{Zn}^{2+}]$$

▷ Convention de frontière :

$$E_1 = E^\circ + 0,03 \log c_0 = -0,94 \text{ V.}$$

• **Valeur de pH_1** : frontière B/C.

▷ Équation de solubilité :



▷ Loi d'action des masses : en présence de solide,

$$[\text{Zn}^{2+}] [\text{HO}^-]^2 = K_s \quad \text{soit} \quad [\text{Zn}^{2+}] \frac{K_e^2}{[\text{H}_3\text{O}^+]^2} = K_s$$

▷ Équation de frontière :

$$[\text{H}_3\text{O}^+]^2 = \frac{K_e^2}{K_s} c_0 \quad \text{d'où} \quad 2\text{pH}_1 = 2\text{p}K_e - \text{p}K_s - \log c_0 \quad \text{soit} \quad \text{pH}_1 = 8,8.$$

• **Valeur de pH_2** : frontière C/D.

▷ Équation bilan :



▷ Loi d'action des masses : en présence de solide,

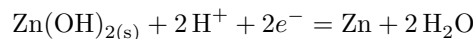
$$\frac{[\text{Zn(OH)}_4^{2-}]}{[\text{HO}^-]^2} = K^\circ \quad \text{soit} \quad \frac{[\text{Zn(OH)}_4^{2-}] [\text{H}_3\text{O}^+]^2}{K_e^2} = K^\circ$$

▷ Équation de frontière :

$$[\text{H}_3\text{O}^+]^2 = \frac{K^\circ K_e^2}{c_0} \quad \text{d'où} \quad 2\text{pH}_2 = 2\text{p}K_e - \log K^\circ + \log c_0 \quad \text{soit} \quad \text{pH}_2 = 11,8.$$

• **Pente de la frontière A/C** :

▷ Demi-équation :



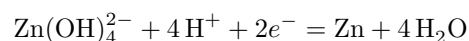
▷ Loi de Nernst :

$$E = E^\circ + \frac{0,06}{2} \log[\text{H}^+]^2 = E^\circ - 0,06 \text{ pH.}$$

La pente est donc de $-0,06 \text{ V}$.

• **Pente de la frontière A/D** :

▷ Demi-équation :



▷ Loi de Nernst :

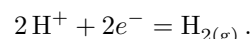
$$E = E^\circ + \frac{0,06}{2} \log ([\text{Zn(OH)}_4^{2-}] [\text{H}^+]^4)$$

▷ Équation de frontière :

$$E = E^\circ + \frac{0,06}{2} \log c_0 - 0,12 \text{ pH.}$$

La pente est donc de $-0,12 \text{ V}$.

3 La demi-équation du couple s'écrit



La loi de Nernst s'écrit

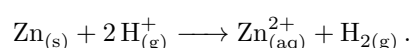
$$E = E^\circ + \frac{0,06}{2} \log \frac{[\text{H}^+]^2}{p_{\text{H}_2}/p^\circ}.$$

En prenant à la frontière $p_{\text{H}_2} = p^\circ = 1 \text{ bar}$, on obtient l'équation de frontière

$$E = E^\circ - 0,06 \text{ pH} = -0,06 \text{ pH}$$

car le potentiel standard du couple est nul. La droite est représentée figure 2.

4 À pH 6 et en solution aqueuse, le point représentatif du système se trouve dans le domaine de corrosion B. Le zinc devrait donc être oxydé et l'eau réduite pour former du dihydrogène, selon l'équation bilan



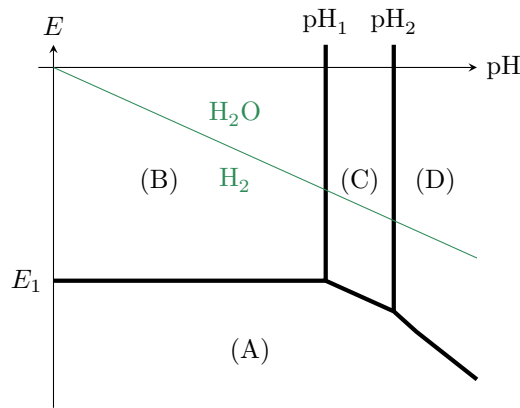


Figure 2 – Diagramme de corrosion du zinc et de l'eau.

On pourrait aussi écrire la réaction de Zn avec l'eau et formation d'hydroxyde HO^- , mais compte tenu du pH de la solution ces ions réagiraient immédiatement avec H^+ , ce qui ramènerait au bilan écrit ci-dessus.

5 La réaction est cinétiquement bloquée car la surtension à la réduction de H^+ sur Zn est élevée. En supposant que la vague d'oxydation de Zn en Zn^{2+} démarre sans surtension à E_1 , alors on a $E < E_1$: le potentiel de la solution se trouve dans la domaine d'immunité de Zn.

Exercice 5 : Corrosion dans les circuits d'eau chaude domestiques



- Interprétation de courbes intensité-potentiel ;
- Anode sacrificielle.

1 D'après la règle du gamma, voir figure 3, l'eau peut oxyder le fer mais pas le cuivre. C'est donc nécessairement le radiateur qui est oxydé, selon la réaction

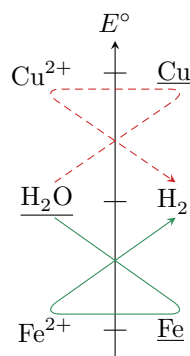
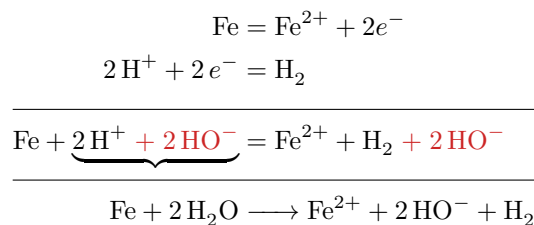


Figure 3 – Règle du gamma dans un radiateur.

2 La réduction a lieu sur le métal où elle est la plus rapide. Pour l'identifier, considérons *séparément* les deux courbes possibles en réduction, et construisons graphiquement le potentiel mixte et le courant de corrosion dans chacun des deux cas : voir figure 4. On constate que le courant de corrosion est très supérieur si la réduction de l'eau a lieu sur le cuivre. Le courant de corrosion réel (et le potentiel mixte réel) sont donc ceux donnés par la courbe correspondant à la réduction de l'eau sur le cuivre.

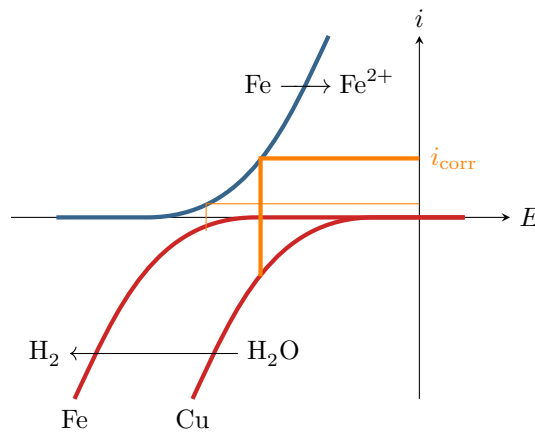


Figure 4 – Courant de corrosion du radiateur.

3 Voir figure 5. La corrosion du radiateur se manifeste surtout à proximité de la jonction car les électrons ont simplement moins de distance à parcourir pour atteindre le cuivre où a lieu la réduction de l'eau.

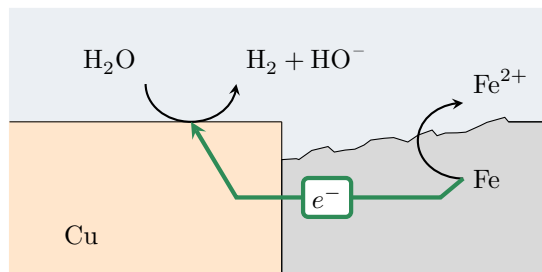


Figure 5 – Mécanisme microscopique de corrosion d'un radiateur.

4 Comme le potentiel standard du couple Mg^{2+}/Mg est nettement inférieur à celui du couple Fe^{2+}/Fe , c'est donc le magnésium qui est oxydé préférentiellement (constante d'équilibre la plus grande, ce qui se traduit graphiquement par le plus grand gamma, voir figure 6). L'anode est dite sacrificielle car elle se dissout en Mg^{2+} , et disparaît au fur et à mesure qu'elle remplit son rôle de protection.

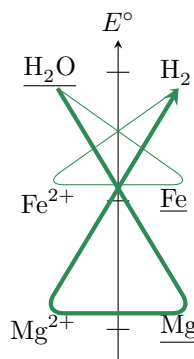


Figure 6 – Règle du gamma dans un chauffe-eau.

On peut aussi retrouver ce résultat en constatant que si l'eau oxydait le fer, alors les ions Fe^{2+} formés seraient en mesure d'oxyder le magnésium ... ce qui reformerait du fer métallique, en plus des ions Mg^{2+} .

5 Considérons qu'en $\Delta t = 5$ ans une masse $\frac{3}{4}m = 400$ g de magnésium a été consommée, ce qui correspond à une quantité de matière $n = \frac{3}{4}m/M_{Mg}$. Oxyder 1 mol de magnésium Mg en Mg^{2+} nécessite 2 mol d'électrons. La charge électrique totale ayant atteint l'anode de magnésium vaut donc

$$Q = 2 \times \frac{3m}{4M_{Mg}} \times \mathcal{F} = I \Delta t \quad \text{soit} \quad I = \frac{3m\mathcal{F}}{2M_{Mg}\Delta t} = 1,9 \cdot 10^{-2} \text{ A .}$$

6 Oxyder 1 mol de Fe en Fe^{2+} nécessite également 2 mol d'électrons. La quantité de matière de fer préservée est donc égale à la quantité de matière de magnésium consommée, ce qui correspond à une masse m' telle que

$$\frac{m'}{M_{\text{Fe}}} = \frac{3m/4}{M_{\text{Mg}}} \quad \text{soit} \quad m' = \frac{3}{4}m \frac{M_{\text{Fe}}}{M_{\text{Mg}}} = 860 \text{ g}.$$

Toutefois, le résultat peut être à nuancer par le fait que l'oxydation du magnésium peut être plus rapide que celle du fer.