



BLAISE PASCAL
PT 2021-2022

TP 19 – Optique

Spectromètre à réseau

Techniques et méthodes

- ▷ Goniomètre ;
- ▷ Vernier ;
- ▷ Régression linéaire ;
- ▷ Mesure par étalonnage.

Matériel sur votre pailasse :

- ▷ Goniomètre ;
- ▷ Réseau 600 traits/mm ;
- ▷ Lampe à vapeur de mercure ;
- ▷ Lampe à vapeur de sodium ;
- ▷ Papier millimétré.

La spectroscopie (ou spectrométrie) optique est l'étude du spectre d'un rayonnement lumineux. Le premier spectre précis fut produit par Fraunhofer vers 1814 à l'aide du premier réseau de diffraction, qu'il mit au point lui-même pour l'occasion. La lumière analysée était celle du Soleil, qui contient des milliers de lignes d'absorption dues à l'absorption de son rayonnement par les gaz constituant la couronne solaire. Son travail permit entre autre la découverte de l'hélium. Aujourd'hui, la spectroscopie est une méthode largement utilisée en analyse chimique, c'est-à-dire pour identifier les différents constituants d'un mélange, qu'il s'agisse de toxicologie, de contrôle de qualité ou encore de détection de polluants.

Le but de ce TP est de mesurer une longueur d'onde en utilisant un goniomètre à réseau : ce faisant, on modélise un spectromètre. Un spectromètre (ou spectroscopie) est toujours constitué d'une fente source, d'un élément « dispersif » (ici, un réseau), et d'un moyen d'observation et de mesure (vernier d'un goniomètre, capteur CCD, etc.).

I - Principe des mesures

I.A - Présentation du goniomètre



Un goniomètre est un appareil destiné aux mesures précises d'angles : s'il est parfaitement utilisé, il permet d'atteindre une précision de $0,1^\circ$ c'est-à-dire $1/60$ de degré. Les figures 1 et 2 en donnent une photo et un schéma d'ensemble. L'ensemble des éléments le constituant peut pivoter autour d'un axe (Δ) vertical et passant par le centre de la platine du goniomètre. Nous l'utiliserons dans ce TP avec un réseau, mais il peut également être utilisé avec un prisme, par exemple pour mesurer l'indice optique d'un matériau en exploitant les lois de Descartes de la réfraction.

Le **collimateur** permet de produire un faisceau de lumière à partir de la source de lumière étudiée. En fonction des modèles, le collimateur peut être fixe ou mobile. Une fente qui laisse passer la lumière se trouve côté source. Une molette permet de régler l'objectif de telle sorte que le faisceau produit en sortie soit parallèle. Pour les réglages, l'ensemble du collimateur peut pivoter par rapport à un axe (Δ_C) *horizontal*, donc orthogonal à (Δ).

L'élément dispersif est déposé sur la **platine**, aussi appelée **plateforme** ou **plateau** du goniomètre, qui peut tourner autour de l'axe (Δ). Trois vis permettent d'ajuster l'horizontalité de la platine.

La **lunette de visée** a pour rôle de former une image à l'infini, destinée à être observée à l'œil. Elle se compose d'un objectif et d'un oculaire, deux lentilles convergentes, et d'un réticule, une croix tracée sur un support transparent. L'ensemble oculaire-réticule est mobile par rapport à l'objectif. Pour les réglages, l'ensemble de la lunette peut aussi pivoter par rapport à un axe (Δ_L) *horizontal*, donc orthogonal à (Δ). Enfin, on peut intercaler entre l'oculaire et le réticule une lame semi-réfléchissante inclinée à 45° et allumer un éclairage interne, éléments utiles lors des réglages.




Figure 1 – Vue d'ensemble d'un goniomètre vu de côté.

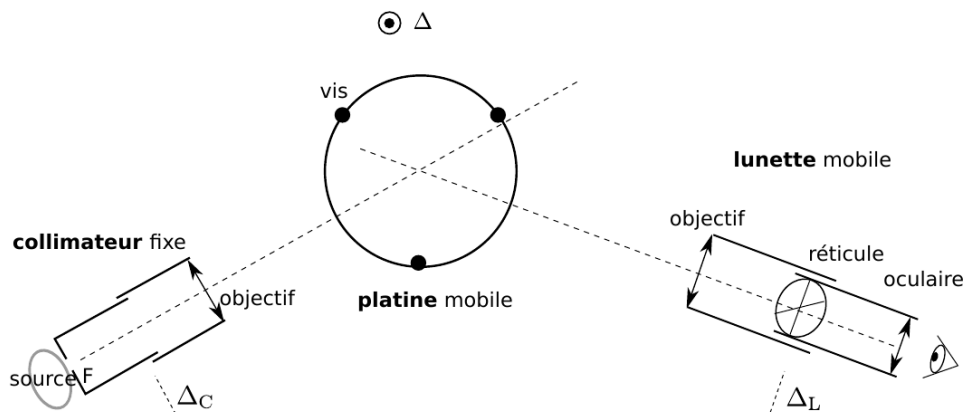


Figure 2 – Schéma d'ensemble d'un goniomètre vu de dessus.

I.B - Protocole de réglage du goniomètre

I.B.1 - Réglage de la lunette de visée

• Réglage de l'oculaire

- * Ajuster la bague de réglage de l'oculaire afin de voir nettement la croix du réticule sans avoir besoin d'accommoder. Ce réglage dépend de la vue de l'observateur.

• Réglage de l'objectif

Il faut ensuite ajuster la bague de réglage de l'objectif pour que la lunette donne une image nette d'un objet à l'infini. Compte tenu du réglage précédent, cela signifie que l'image intermédiaire (image de l'objet par l'objectif) se trouve dans le plan du réticule. Une méthode approximative est de pointer un objet éloigné dans la salle, mais il est possible d'être plus précis en travaillant par autocollimation.

- * Allumer la petite lampe de la lunette, et mettre en place la lame semi-réfléchissante. Placer un objet réfléchissant (au moins partiellement) sur la plate-forme (un réseau convient) et viser une de ses faces.
- * Tourner la lunette autour de (Δ) jusqu'à voir une tâche circulaire nettement lumineuse, due aux rayons réfléchis sur le réseau qui reviennent dans la lunette. La centrer grossièrement en jouant sur la vis d'horizontalité de la lunette.
- * Ajuster la bague de réglage de l'objectif jusqu'à voir sur cette tâche le réticule et son image nets tous les deux : la lunette est alors réglée sur l'infini.

• Changement d'observateur

Le précédent réglage assure que l'image intermédiaire se trouve dans le plan du réticule. En cas de changement d'observateur, il suffit donc au nouvel observateur de régler à sa vue l'oculaire, sans toucher à aucun autre réglage.

I.B.2 - Réglage du collimateur

- * Éclairer la fente du collimateur à l'aide d'une lampe spectrale. Observer à travers la lunette l'image de la fente produite par le collimateur. Agir sur la molette du collimateur jusqu'à ce que cette image soit nette, en particulier les bords.

Le collimateur produit alors une image à l'infini de la fente, autrement dit celle-ci se trouve dans le plan focal objet du collimateur. Ainsi, tout point éclairé de la fente produit en sortie un faisceau de rayons parallèles.

I.B.3 - Réglage de l'horizontalité de la lunette

Cette étape du réglage est assez fastidieuse, et tant que l'on procède par étalonnage, comme c'est le cas dans ce TP, elle n'est pas critique. On pourra donc se contenter d'un réglage « raisonnablement approximatif ». Lorsqu'un étudiant de la classe a travaillé sur un goniomètre au concours (2021), il n'a pas eu à faire ce réglage, probablement effectué au préalable par l'examineur.

Il faut ensuite faire en sorte que l'axe de visée de la lunette soit orthogonal à l'axe (Δ) de la platine quelle que soit la rotation effectuée. On agit pour cela sur la vis V_L située sous la lunette.

- * Placer un réseau sur la platine, orienté comme sur la figure 3 par rapport aux trois vis de réglages d'horizontalité de la platine. Attention à respecter l'orientation, et attention à l'encombrement : la platine doit pouvoir être tournée de 180° .

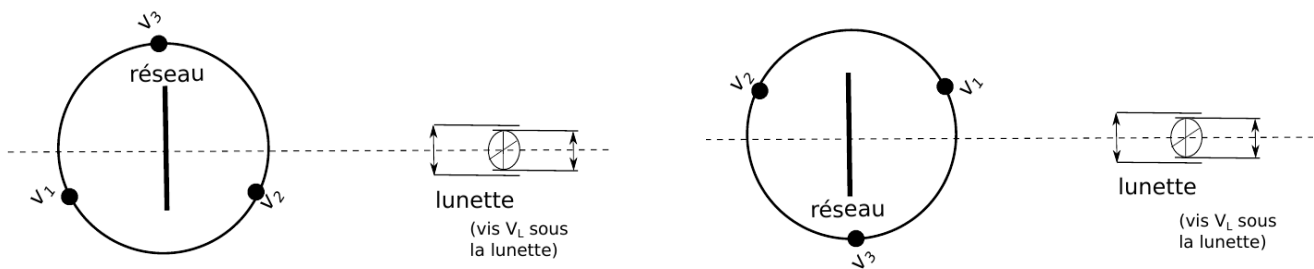
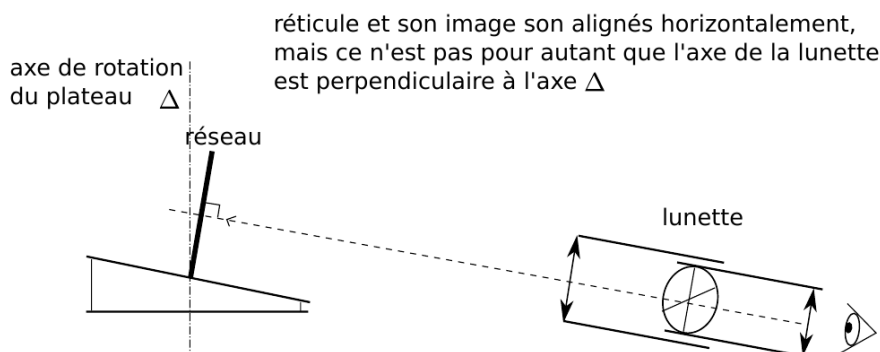
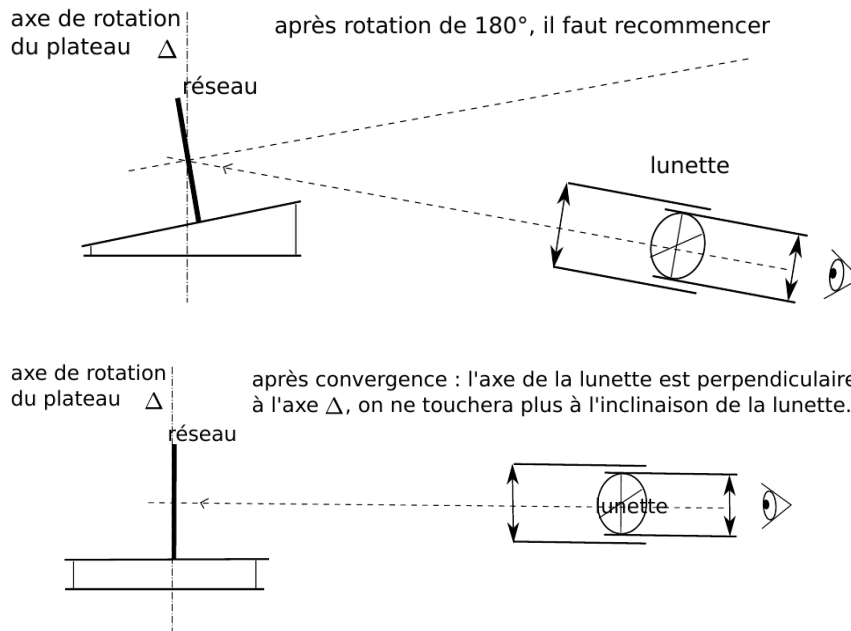


Figure 3 – Position du réseau par rapport à la platine.

- * Allumer la petite lampe de la lunette, et mettre en place la lame semi-réfléchissante. Diriger la lunette pour observer l'image du réticule en réflexion sur le réseau.
- * Superposer le trait horizontal du réticule à son image. Pour cela, jouer pour moitié sur la vis V_L sous la lunette, et pour moitié sur la vis V_1 de la platine (la plus proche de vous).
- * Observer ensuite la réflexion sur l'autre face du réseau, en faisant tourner la platine de 180° autour de l'axe (Δ). Procéder au même réglage, en jouant cette fois pour moitié sur V_L et pour moitié sur V_2 (comme la platine a tourné, c'est maintenant la plus proche de vous).
- * Reproduire ces manipulations jusqu'à ce que le trait horizontal du réticule et son image coïncident dans les deux positions. L'axe de la lunette est alors perpendiculaire à l'axe (Δ) de rotation de la platine.

Les trois schémas ci-dessous permettent de comprendre la logique du réglage :





I.B.4 - Réglage du parallélisme entre fente source et traits du réseau

La dernière étape du réglage consiste à rendre les traits du réseau parallèles à la fente source.

- * Observer la figure de diffraction par le réseau. Tourner largement la lunette pour observer le plus d'ordres possibles. Si les ordres semblent « monter » ou « descendre », les recentrer en jouant sur la vis V_3 ... ou plus simplement en faisant légèrement pivoter le réseau sur son support.

I.C - Formule des réseaux

Un réseau est un élément dispersif permettant de séparer spatialement les différentes raies d'une lampe spectrale. L'angle d'émergence θ_p des raies est relié à l'angle d'incidence et à leur longueur d'onde par la formule des réseaux,

$$\sin \theta_p - \sin \theta_0 = p \frac{\lambda}{a}$$

avec p un entier relatif et a le pas du réseau. Mesurer les angles θ_p et θ_0 connaissant a permet d'en déduire λ . En pratique, ce n'est pas le pas a qui est indiqué par les fabricants mais le nombre de traits par millimètre du réseau, noté $N = 1/a$ exprimé en mm^{-1} : attention à la cohérence des unités dans vos calculs numériques ! La formule des réseaux s'écrit alors

$$\sin \theta_p - \sin \theta_0 = pN\lambda.$$

Cependant, la valeur indiquée est rarement précise : il est toujours nécessaire d'étalonner le spectromètre avec des raies de longueur d'onde connue avant de pouvoir en déduire une longueur d'onde inconnue.

- Compléter le schéma de l'expérience représenté figure 4 dans le cas très simplifié où le spectre de la source contient deux raies, une rouge et une bleue, et que les ordres -2 à 2 sont visibles pour les deux radiations.

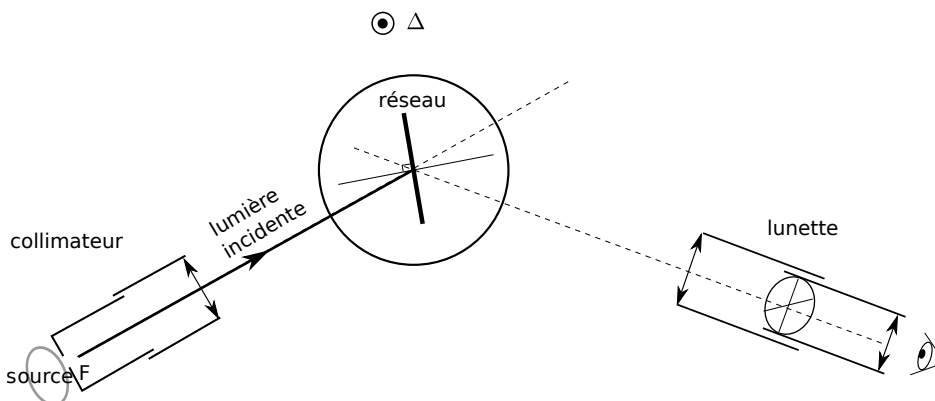



Figure 4 – Schéma général de l'expérience.

I.D - Méthode du minimum de déviation

 Pour une raie observée en sortie du réseau, on appelle **déviatio**n l'angle $D = \theta_p - \theta_0$, voir figure 5. Attention à ne pas confondre l'angle D , mesuré par rapport au rayon incident, et l'angle θ_p , mesuré par rapport à la normale au réseau. En combinant un calcul de dérivée et la formule des réseaux, on peut montrer que la déviation est minimale lorsque $\theta_p = -\theta_0$. L'angle minimum de déviation est alors tel que

$$2 \sin \frac{D_m}{2} = \frac{p\lambda}{a}$$

Du point de vue expérimental, lorsque le réseau est tourné (toujours dans le même sens!) autour de l'axe Δ de la figure 4, le minimum de déviation est atteint lorsque la raie observée semble faire demi-tour.

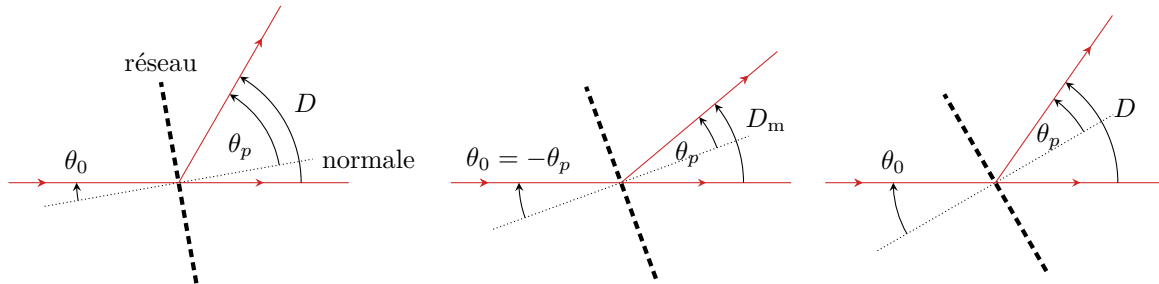
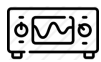


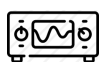
Figure 5 – Illustration du minimum de déviation. Pour la lisibilité de la figure, l'angle θ_0 est choisi négatif.

Mesurer le minimum de déviation est plus précis qu'une mesure absolue des angles θ_p et θ_0 : mesurer ces angles séparément demande de repérer avec précision la normale au réseau, ce qui n'est pas simple en pratique.


II - Étalonnage avec la lampe à vapeur de mercure


 Régler le goniomètre avec la lampe à vapeur de mercure en suivant le protocole du paragraphe I.B. Si la lumière émise par la lampe source est trop intense et vous gêne, vous pouvez intercaler un morceau de papier entre la lampe et la fente source. À l'issue du réglage, vous devez observer l'ordre 0, de même couleur que la source, et les raies du spectre dans différents ordres.

II.A - Étude qualitative

 Identifier les raies et leur ordre par comparaison avec le tableau ci-dessous. D'autres raies, moins lumineuses, peuvent également être visibles en fonction de la luminosité de la lampe source.

| Couleur | Violet | Indigo | Bleu | Vert | Jaune | Jaune |
|----------------|--------|--------|-------|-------|-------|-------|
| λ (nm) | 404,7 | 435,8 | 491,6 | 546,1 | 577,0 | 579,1 |

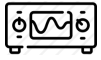
 Combien d'ordres sont observables? Les comparer qualitativement en termes de luminosité et d'écart entre les raies.

 Observe-t-on du recouvrement d'ordre? Identifier les ordres et les raies concernés.

 Modifier la largeur de la fente source. Quel effet cela a-t-il sur le spectre?

II.B - Étalonnage

La valeur de pas du réseau annoncé par les constructeurs n'est qu'un ordre de grandeur (par exemple, convertir la valeur annoncée en « lines per inch » ne redonne pas exactement celle en « traits par millimètre » ...). Ainsi, il n'est pas possible de réaliser directement des mesures de longueur d'onde sans passer par un étalonnage préalable du réseau, permettant d'accéder avec précision à la valeur de a .



Proposer et mettre en œuvre un protocole permettant de réaliser une courbe d'étalonnage pertinente du spectromètre réalisé par l'association du goniomètre et du réseau. On utilisera pour chaque raie la méthode du minimum de déviation, décrite paragraphe I.D. Attention, le minimum de déviation dépend de la longueur d'onde et de l'ordre : il est donc nécessaire de le retrouver pour chaque raie.

✍ Dédurre de cette courbe le nombre de traits par millimètre du réseau. Comparer à la valeur annoncée sur le réseau.

III - Spectre d'émission du sodium



Utilisons désormais notre spectromètre pour étudier le spectre d'émission du sodium : on remplace donc la lampe à vapeur de mercure ayant servi à l'étalonnage par une lampe à vapeur de sodium. Modifier les réglages du goniomètre n'est pas nécessaire.

✍ Décrire qualitativement le spectre du sodium.

✍ Mesurer les longueurs d'onde des raies observables. Discuter la précision des mesures.

La plupart des schémas de ce TP sont issus du travail de Mickaël Melzani : merci à lui.